

# فصل اول

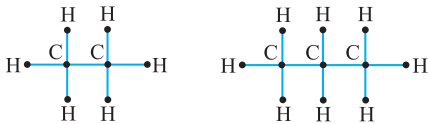
## جلسه اول



### CHAPTER ONE

#### آشنایی با گراف و مقدمات آن

آیا تا به حال به نقشه‌ی راه‌های یک کشور توجه کرده‌اید، که در آن شهرها را با نقاط و راه‌های بین آن‌ها را با خطوطی مستقیم یا مایل نمایش می‌دهند؟



یا مثلاً در درس شیمی با نمودارهایی که ساختار مواد را تشکیل می‌دهند آشنا شده‌اید. در این نمودارها عناصر توسط خطوطی که نماینده‌ی پیوند بین آن‌ها است به هم متصل شده‌اند.

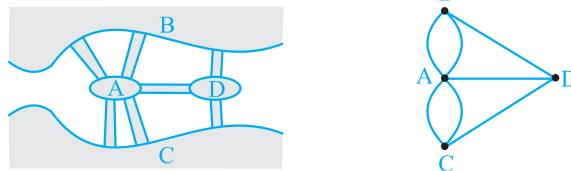
در تمام این موارد یا موارد مشابه آن‌ها، در حال رسم گراف می‌باشیم. در واقع گراف مجموعه‌ای از نقاط است که بعضی از این نقاط توسط پاره‌خط‌هایی به هم متصل شده‌اند. راستی می‌دانید نظریه‌ی گراف‌ها چگونه به وجود آمد؟

#### معمای پل‌های شهر کونیگسبرگ

در قرن هجدهم میلادی، شهر کونیگسبرگ از دو ساحل یک رودخانه و دو جزیره تشکیل شده بود و هفت پل، این چهار منطقه را به یکدیگر وصل کرده بود. بین مردم این شهر این معما وجود داشت که آیا می‌توان با آغاز از یکی از این مناطق و عبور از هر پل دقیقاً یک بار در شهر گشتی زد و به منطقه‌ی آغاز بازگشت؟

لئونارد اویلر [۱۷۸۳-۱۷۰۱ م] ریاضی‌دان مشهور سوئیسی (امسال ما با ایشان خیلی کار داریم) با دیدن این مسأله، آن را تبدیل به طرحی ساده از نقاط و پاره‌خط‌ها نمود و نام آن را گراف گذاشت. در واقع هر منطقه را یک نقطه و هر پل را یک پاره‌خط یا کمان بین منطقه‌ها در نظر گرفت و بدین ترتیب نظریه‌ی گراف شکل گرفت. حتماً می‌پرسید جواب معمای شهر کونیگسبرگ چه شد؟

با زیاد شدن معلوماتان در مبحث گراف خواهیم دید چنین کاری میسر نیست!



نمایی از پل‌های شهر کونیگسبرگ و گراف مربوط به آن

#### گراف

**تعریف:** اگر  $V = \{a_1, a_2, \dots, a_n\}$  مجموعه‌ای ناتهی از نقاط و مجموعه‌ی  $A = \{\{a_1 a_2\}, \{a_1 a_3\}, \dots, \{a_1 a_n\}, \{a_2 a_3\}, \dots, \{a_{n-1} a_n\}\}$  (مجموعه‌ی تمام پاره‌خط‌های ممکن بین نقاط مجموعه‌ی  $V$ ) مفروض باشند، آن‌گاه به شرط آن که  $E \subseteq A$  باشد،  $G = (V, E)$  را یک **گراف ساده** می‌گوییم.

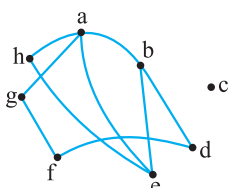
**تعریف:** به مجموعه‌ی نقاط، **رئوس گراف** و به مجموعه‌ی پاره‌خط‌ها، **یال‌های گراف** می‌گوییم.

**تذکر:** نیازی نیست یال‌های گراف، پاره‌خط‌های مستقیم باشند. ممکن است خطوطی منحنی یا شکسته باشند.

به‌طور معمول رئوس گراف را با حروف کوچک انگلیسی و نام گراف را با حروف بزرگ انگلیسی نمایش می‌دهیم.

**قرارداد:** اگر  $u$  و  $v$  دو رأس از گراف  $G$  و هم‌چنین  $\{u, v\} \in E(G)$  و  $u, v \in V(G)$  باشد، آن‌گاه برای سادگی به جای  $\{u, v\}$  می‌نویسیم  $uv$  و می‌گوییم دو رأس  $u$  و  $v$  در  $G$  **مجاور** هستند.

به گراف روبه‌رو توجه کنید:



شکل (۱)

در این گراف مجموعه‌ی رئوس عبارت است از:  $V = \{a, b, c, d, e, f, g, h\}$

و مجموعه‌ی یال‌های گراف عبارت است از:  $E = \{ab, ac, ag, ah, bd, be, df, eh, fg\}$

## گراف ساده

یک گراف، در صورتی گراف ساده است که:

- ۱- طوقه نداشته باشد. (طوقه یالی است که از یک رأس به خودش رسم شود).
- ۲- یال‌ها جهت نداشته باشند.
- ۳- یال موازی نداشته باشد. (یال موازی یعنی بین دو رأس بیش از یک یال باشد).

**توجه:** در فصل گراف‌ها ما با گراف‌های ساده سروکار داریم، پس هر جا کلمه‌ی گراف به کار رفت منظورمان گراف ساده است.

## چند اصطلاح در مبحث گراف

$$p = |V|$$

$$q = |E|$$

**مرتبه:** به تعداد رئوس یک گراف، مرتبه‌ی گراف می‌گوییم و آن را با  $p$  نمایش می‌دهیم.

**اندازه:** به تعداد یال‌های گراف، اندازه‌ی گراف می‌گوییم و آن را با  $q$  نمایش می‌دهیم.

**درجه‌ی هر رأس از گراف:** درجه‌ی هر رأس از گراف برابر است با تعداد یال‌هایی که به آن رأس متصل است و درجه‌ی رأس  $a$  را با  $\deg(a)$  نمایش می‌دهیم.

**رأس زوج:** رأسی است که درجه‌ی آن زوج باشد.

**رأس فرد:** رأسی است که درجه‌ی آن فرد باشد.

**رأس منفرد:** رأسی که به هیچ رأسی متصل نباشد، رأس منفرد نامیده می‌شود. در واقع درجه‌ی این رأس صفر است.

**دو رأس مجاور:** دو رأسی هستند که توسط یک یال به هم متصل باشند.

اگر بین دو رأس یالی نباشد، می‌گوییم دو رأس غیر مجاورند.

**دنباله‌ی درجه‌ی رئوس گراف:** دنباله‌ای نزولی است که جملات آن درجه‌ی رئوس گراف است. در واقع درجه‌ی رئوس گراف را از بیش‌ترین تا کم‌ترین می‌نویسیم. تعداد اعضای این دنباله برابر با مرتبه‌ی گراف است.

به عنوان مثال، اگر به گراف شکل (۱) توجه کنیم، خواهیم داشت:

$$p = 8, q = 9$$

در این گراف رأس  $c$ ، منفرد است و مثلاً دو رأس  $a$  و  $e$  مجاورند ولی  $d$  و  $e$  مجاور نیستند.

در این گراف درجات رئوس عبارتند از:

$$\deg(a) = 4, \deg(b) = 3, \deg(c) = 0, \deg(d) = 2, \deg(e) = 3, \deg(f) = 2, \deg(g) = 2, \deg(h) = 2$$

$$4, 3, 3, 2, 2, 2, 2, 0$$

و دنباله‌ی درجه‌ی رئوس گراف برابر است با:

اگر در گراف موردنظر، مجموع درجه‌ی رئوس را محاسبه کنیم، حاصل دو برابر تعداد یال‌ها خواهد بود. این رابطه در گراف‌های دیگر نیز برقرار است.

**قضیه:** مجموع درجه‌ی رئوس هر گراف ساده، دو برابر اندازه‌ی گراف است.

**اثبات:** در شمارش مجموع درجه‌ی رئوس، هر یال مانند یال  $xy$  دو بار محاسبه می‌شود. یک بار برای محاسبه‌ی درجه‌ی رأس  $x$  و یک بار برای محاسبه‌ی درجه‌ی رأس  $y$ . پس مجموع درجه‌ی رئوس برابر است با دو برابر تعداد یال‌ها.

$$\sum_{i=1}^p \deg(a_i) = 2q$$

بنابراین اگر گرافی از مرتبه‌ی  $p$  با رئوس  $a_1, a_2, \dots, a_p$  و  $a_i$  باشد، داریم:

**نتیجه:** تعداد رئوس فرد در هر گراف عددی زوج است.

**اثبات:** مجموع درجه‌ی رئوس زوج که عددی زوج است و مجموع کل درجه‌ی رئوس هم برابر با  $2q$  است که عددی زوج می‌باشد، بنابراین داریم:

$$\text{عدد زوج} = (\text{مجموع درجه‌ی رئوس زوج}) - 2q = \text{مجموع درجه‌ی رئوس فرد}$$

پس مجموع درجه‌ی رئوس فرد هم عددی زوج است که این زمانی اتفاق می‌افتد که تعداد رئوس فرد عددی زوج باشد.

**مثال ۱:** تعداد رئوس زوج یک گراف از مرتبه‌ی ۱۳۹۳ کدام گزینه می‌تواند باشد؟

$$۶۶۶ (۴)$$

$$۹۹۹ (۳)$$

$$۱۰۰۰ (۲)$$

$$۱۳۹۲ (۱)$$

**پاسخ:** در هر گراف تعداد رئوس فرد، عددی زوج است، پس در این گراف به تعداد  $2k - 1393$  رأس زوج وجود دارد که این عددی فرد است و تنها گزینه‌ی (۳) قابل قبول است.

**نکته:** تعداد رئوس زوج در هر گراف مشابه مرتبه‌ی گراف است. یعنی اگر گراف تعداد زوج رأس داشته باشد، تعداد رئوس زوج نیز عددی زوج است و اگر گراف تعداد فرد رأس داشته باشد، تعداد رئوس زوج نیز عددی فرد است.



روش هاول - حکیمی برای تشخیص گرافی بودن دنباله

در این روش، رأس با درجهی max را حذف می‌کنیم و به اندازه‌ی درجه‌ی حذف شده به ترتیب از باقی رئوس یک واحد کم می‌کنیم. مثلاً اگر رأسی با درجه‌ی ۳ حذف شود، از درجه‌ی ۳ رأس بعدی، هر کدام یک واحد کم می‌کنیم. توجه داشته باشید که در تمام مراحل باید ترتیب نزولی بودن دنباله رعایت شود. اگر با ادامه دادن این روند به دنباله‌ی ثابت صفر برسیم، دنباله‌ی اولیه یک دنباله‌ی گرافی است و در غیر این صورت با دنباله‌ی داده شده نمی‌توان گراف رسم کرد.

البته اگر در هر مرحله‌ای بتوان تشخیص داد که دنباله قابل رسم یا غیرقابل رسم است کار را متوقف می‌کنیم. به نمونه‌های زیر توجه کنید:

(۱) دنباله‌ی  $4, 4, 2, 2$   
 $3, 3, 1, 1$   
 $2, 0, 0$

با این دنباله نمی‌توان گراف رسم کرد.

(۲) دنباله‌ی  $4, 4, 4, 2, 2$

$3, 3, 3, 1, 1$   
 $3, 3, 2, 1$   
 $2, 1, 1$

ترتیب نزولی رعایت شود.

$1, 0, 0$   
 $1, 0, 0$   
 $0, 0$

ترتیب نزولی رعایت شود.

دنباله‌ی (۲) گرافی است و گراف آن به صورت مقابل است:



توجه کنید که همواره ترتیب نزولی بودن دنباله را رعایت کنید. در دنباله‌ی (۲) در مراحل قبلی به دنباله‌ی  $2, 2, 1, 1$  رسیدیم که این دنباله به صورت گراف مقابل رسم می‌شود، پس در همان جا می‌توانستیم کار را تمام کنیم.



(آزمون‌های گاه)

$5, 4, 3, 2, 2, 1$  (۴)

$5, 5, 4, 4, 2, 2$  (۳)

$5, 4, 4, 3, 3, 3$  (۲)

$5, 5, 3, 3, 1, 1$  (۱)

**مثال ۷:** کدام یک از دنباله‌های زیر، می‌تواند دنباله‌ی درجات رئوس یک گراف ساده باشد؟

**پاسخ:** گزینه‌ی (۴) نادرست است. به دلیل این که دارای ۳ رأس درجه‌ی فرد است.

گزینه‌ی (۱) نادرست است به دلیل این که دو رأس درجه‌ی ۵ (فول) دارد، پس نمی‌تواند رأس درجه‌ی ۱ داشته باشد.

دنباله‌ی گزینه‌های (۲) و (۳) مشکل تعداد رأس درجه‌ی فرد و رأس max ندارند، پس یا باید سراغ رسم آن‌ها برویم یا روش هاول - حکیمی:

(۲) گزینه‌ی  $4, 4, 3, 3, 3$

گزینه‌ی (۳):  $5, 4, 4, 2, 2$

$3, 3, 2, 2, 2$

$3, 3, 3, 1, 1$

$2, 1, 1, 2$

$2, 0, 0$



این دنباله قابل رسم است و گراف آن به صورت مقابل است.

$1, -1, -1$

این دنباله قابل رسم نیست.

بنابراین گزینه‌ی (۲) صحیح است.

**مثال ۸:** ثابت کنید در هر گراف ساده حداقل ۲ رأس با درجه‌ی یکسان وجود دارد.

**پاسخ:** در گراف مرتبه‌ی p، درجه‌ی رئوس می‌تواند ۰ یا ۱ یا ۲ یا ... یا p-۱ باشد. رأس درجه‌ی صفر رأسی است که به هیچ رأسی متصل نیست و رأس درجه‌ی p-۱ به همه‌ی رئوس متصل است. پس در گراف هم‌زمان رأس درجه‌ی صفر و p-۱ نمی‌تواند ظاهر شود. بنابراین برای درجه‌ی رئوس، p-۱ وضعیت وجود دارد و p رأس داریم. طبق اصل لانه‌ی کبوتر با توجه به اینکه  $p > p-1$  است، پس حداقل دو رأس با درجه‌ی یکسان در هر گراف وجود دارد.

**مثال ۹:** بررسی کنید چه زمانی دنباله‌ی درجه‌ی رئوس یک گراف، تشکیل دنباله‌ی حسابی یا هندسی می‌دهد؟

**پاسخ:** دنباله‌ی درجه‌ی رئوس گراف را به صورت  $d_1, d_2, d_3, \dots, d_m, d_n, \dots, d_p$  فرض می‌کنیم و با توجه به مثال قبل باید درجه‌ی رئوس حداقل ۲ رأس با هم برابر باشد، فرض کنیم که  $d_m = d_n$  باشد. برای آن که این دنباله تشکیل دنباله‌ی حسابی دهد باید قدرنسبت دنباله صفر باشد، چون فقط با افزودن عدد صفر می‌توان  $d_m$  را به  $d_n$  تبدیل کرد، بنابراین تمامی جملات دنباله با هم برابر می‌شوند. در مورد دنباله‌ی هندسی هم به دلیل مشابه قدرنسبت باید یک باشد و باز هم تمامی جملات با هم برابر می‌شوند. (البته اگر تمام رئوس گراف از درجه‌ی صفر باشند در دنباله‌ی هندسی قدرنسبت هر عددی می‌تواند باشد.)

**نکته:** اگر دنباله‌ی درجه‌ی رئوس یک گراف تشکیل دنباله‌ی حسابی دهد، قدرنسبت برابر صفر است و اگر تشکیل دنباله‌ی هندسی دهد، قدرنسبت برابر یک است و در هر دو حالت تمامی اعداد دنباله با هم برابر می‌شوند.





**مثال ۴:** با رئوس  $a, b, c, d, e$  چند گراف ساده می توان رسم کرد که رأس  $a$  منفرد باشد؟

- ۳۲ (۱)      ۶۴ (۲)      ۲۸ (۳)      ۵۶ (۴)

**پاسخ:** رأس  $a$  منفرد است، یعنی رأس  $a$  به هیچ رأسی متصل نیست. پس مثل این است که رأس  $a$  وجود ندارد و با ۴ رأس دیگر باید گراف را بسازیم، پس می توانیم  $2^4 = 16 = 64$  گراف بسازیم. بنابراین گزینه ی (۲) صحیح است.

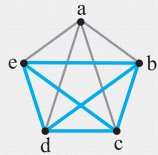
**مثال ۵:** با رئوس  $a, b, c, d$  چند گراف ساده از اندازه ی ۳ می توان رسم کرد؟

- ۳۰ (۱)      ۱۵ (۲)      ۲۰ (۳)      ۲۴ (۴)

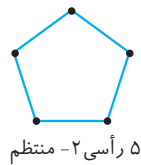
**پاسخ:** با رئوس داده شده حداکثر می توانیم  $\frac{4 \times 3}{2} = 6$  یال رسم کنیم. ولی در گراف مورد نظر فقط ۳ یال را می خواهیم. پس باید ۳ یال را از ۶ یال موجود انتخاب کنیم. بنابراین می توان به تعداد  $\binom{6}{3} = 20$  گراف رسم کرد و گزینه ی (۳) صحیح است.

**مثال ۶:** با رئوس  $a, b, c, d, e$  چند گراف از اندازه ی ۵ می توان رسم کرد که  $\deg(a) = 2$  باشد؟

- ۳۰ (۱)      ۱۲۰ (۲)      ۶۰ (۳)      ۹۰ (۴)



**پاسخ:** ۴ یال می تواند به رأس  $a$  متصل شود (یال های  $ab, ac, ad, ae$ ) ولی ما فقط ۲ تا از آن ها را می خواهیم پس به تعداد  $\binom{4}{2}$  حالت یال های متصل به  $a$  را انتخاب می کنیم. از بین یال های غیرمتصل به رأس  $a$  (یال هایی که رنگی رسم شده اند) باید ۳ یال را انتخاب کنیم تا در کل، اندازه ی گراف ۵ شود که این کار به  $\binom{6}{3}$  حالت میسر است و در کل  $6 \times 20 = 120$  گراف می توان رسم کرد. بنابراین گزینه ی (۲) صحیح است.



**تعریف:** گراف منتظم، گرافی است که درجه ی تمام رئوس آن با هم برابر باشد. اگر درجه ی تمام رئوس گراف  $r$  باشد آن را  $r$ -منتظم می نامیم.

**توجه:** هر گراف کامل، یک گراف  $(p-1)$ -منتظم از مرتبه ی  $p$  و هر گراف تهی، یک گراف  $0$ -منتظم است.

**نکته:** گراف فرد-منتظم از مرتبه ی فرد وجود ندارد. مثلاً نمی توانیم یک گراف،  $5$ -منتظم از مرتبه ی  $11$  داشته باشیم. به دلیل این که تعداد رئوس فرد باید زوج باشد.

در گراف  $r$ -منتظم، با توجه به این که درجه ی تمام رئوس  $r$  است، داریم:

$$\sum_{i=1}^p \deg(a_i) = 2q \Rightarrow p \times r = 2q \Rightarrow q = \frac{rp}{2} \text{ (تعداد یال های گراف } r \text{ - منتظم)}$$

(تمرین ۱ کتاب درسی - صفحه ی ۱۴)

**مثال ۷:** گراف  $G$ ،  $3$ -منتظم بوده و  $q = 2p - 3$  است. مجموع مرتبه و اندازه ی گراف کدام است؟

- ۱۵ (۱)      ۱۸ (۲)      ۲۴ (۳)      ۱۲ (۴)

$$\begin{cases} q = \frac{3p}{2} \Rightarrow \frac{3p}{2} = 2p - 3 \Rightarrow \frac{p}{2} = 3 \Rightarrow p = 6 \\ q = 2p - 3 \end{cases}$$

**پاسخ:**

گزینه ی (۱) صحیح است.  $\Rightarrow p + q = 15 \Rightarrow q = 2 \times 6 - 3 = 9$

**مثال ۸:** کدام گراف وجود دارد؟

(۱) گراف  $8$ -منتظمی که  $q = 3p + 5$  باشد.

(۲) گراف  $10$ -منتظم با  $40$  یال

(۳) گراف  $7$ -منتظمی که مجموع مرتبه و اندازه ی آن  $45$  باشد.

(۴) گراف  $11$  رأسی که دنباله ی درجه ی رئوس آن تشکیل دنباله ی حسابی داده باشد و عدد اول دنباله  $9$  باشد.

**پاسخ:** گزینه ی (۱): با گراف  $5$  رأسی نمی توان رأس درجه ی  $8$  ساخت. پس چنین گرافی وجود ندارد.  $\Rightarrow p = 5 \Rightarrow 4p = 3p + 5 \Rightarrow q = 3p + 5$

گزینه‌ی (۲): با ۸ رأس نمی‌توان رأس درجه‌ی ۱۰ ساخت و چنین گرافی وجود ندارد.  $\Rightarrow p = 8 \Rightarrow \Delta p = 40 = q = \frac{10p}{2}$

گزینه‌ی (۳): چنین گرافی وجود دارد.  $\Rightarrow p = 10 \Rightarrow \Delta p = 45 = q = \frac{7p}{2} \Rightarrow p + q = p + \frac{7p}{2} = \frac{9p}{2} = 45$

گزینه‌ی (۴): در گرافی که دنباله‌ی درجات رئوس آن تشکیل دنباله‌ی حسابی یا هندسی دهد، باید درجه‌ی تمام رئوس با هم برابر باشد (قبلاً اثبات شد). پس گراف منتظم است. در اینجا یک گراف ۱۱ رأسی - منتظم داریم که چنین گرافی وجود ندارد (با توجه به نکته‌ی قبل). بنابراین گزینه‌ی (۳) صحیح است.

ماکزیم، مینیم و میانگین درجات رئوس گراف

**تعریف:** به بزرگ‌ترین درجه‌ی رأس در بین درجات رئوس گراف، **ماکزیم درجه‌ی رئوس گراف** می‌گوییم و آن را با  $\Delta$  نمایش می‌دهیم.

**تعریف:** به کوچک‌ترین درجه‌ی رأس در بین درجات رئوس گراف، **مینیم درجه‌ی رئوس گراف** می‌گوییم و آن را با  $\delta$  نمایش می‌دهیم.

در گراف مقابل  $\Delta = 3$  و  $\delta = 1$  است.



**نکته:** اگر در گرافی  $\Delta = \delta$  باشد، گراف منتظم است و بالعکس.

میانگین درجه‌ی رئوس گراف

$$\text{میانگین درجه‌ی رئوس گراف} = \frac{\text{مجموع درجه‌ی رئوس}}{\text{تعداد رئوس}} = \frac{2q}{p}$$

می‌دانیم که میانگین داده‌ها همواره بین بیش‌ترین و کم‌ترین داده می‌باشد. پس نامساوی مهم زیر را می‌توان بیان کرد:

$$\delta \leq \frac{2q}{p} \leq \Delta$$

**مثال ۱۹:** گرافی از اندازه‌ی ۳۱ و  $\delta = 5$  است. حداکثر مرتبه‌ی گراف کدام است؟

- ۱۳ (۱)      ۱۲ (۲)      ۱۱ (۳)      ۱۰ (۴)

$$\delta = 5 \leq \frac{2q}{p} = \frac{62}{p} \Rightarrow p \leq \frac{62}{5} = 12.4$$

**پاسخ:** ۱۲

با توجه به نامساوی به‌دست آمده، حداکثر مرتبه‌ی گراف، ۱۲ می‌باشد و گزینه‌ی (۲) صحیح است.

**مثال ۲۰:** گرافی از مرتبه‌ی ۸ و  $\Delta = 5$  است. اندازه‌ی گراف چند مقدار مختلف می‌تواند داشته باشد؟

- ۱۷ (۱)      ۱۶ (۲)      ۱۵ (۳)      ۱۴ (۴)

**پاسخ:** با توجه به نامساوی فوق، می‌توانیم بزرگ‌ترین اندازه‌ی گراف را به‌دست آوریم.

$$\frac{2q}{p} = \frac{2q}{8} \leq \Delta = 5 \Rightarrow 2q \leq 40 \Rightarrow q \leq 20$$

برای کم‌ترین مقدار  $q$  توجه کنید که باید گراف حداقل یک رأس با درجه‌ی ۵ داشته باشد. بنابراین حداقل اندازه‌ی گراف، ۵ است و بنابراین داریم  $5 \leq q \leq 20$  و گزینه‌ی (۲) صحیح است.

**تذکر:** در حالت کلی در گرافی که  $\Delta = k$  باشد، حداقل اندازه‌ی گراف  $k$  می‌باشد.

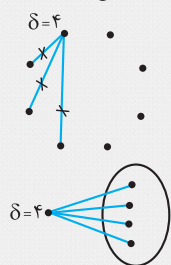
(آزمون‌های گاج)

**مثال ۲۱:** گرافی از مرتبه‌ی ۸ و  $\delta = 4$  است. اندازه‌ی گراف چند مقدار مختلف می‌تواند داشته باشد؟

- ۱۲ (۱)      ۱۱ (۲)      ۱۰ (۳)      ۹ (۴)

$$\delta = 4 \leq \frac{2q}{p} = \frac{2q}{8} \Rightarrow 32 \leq 2q \Rightarrow 16 \leq q$$

**پاسخ:** باز هم با استفاده از نامساوی، می‌توانیم حداقل  $q$  را به‌دست آوریم:



برای به‌دست آوردن حداکثر اندازه‌ی گراف به دو روش می‌توانیم عمل کنیم.  
روش اول: گراف کامل مرتبه‌ی ۸ دارای ۲۸ یال بوده و درجه‌ی هر رأس آن ۷ است. برای آن که رأسی با درجه‌ی ۴ داشته باشیم، باید حداقل از یک رأس ۳ یال را حذف کنیم.

$$q_{\max} = 28 - 3 = 25$$

پس داریم: روش دوم: یک رأس درجه‌ی ۴ داریم و با ۷ رأس دیگر ماکزیم تعداد یال، یعنی  $k_v$ ، را بسازیم، پس داریم:

$$q_{\max} = \frac{7 \times 4}{2} + 4 = 21 + 4 = 25$$

بنابراین خواهیم داشت:  $16 \leq q \leq 25$  و گزینه‌ی (۳) صحیح است.



**تذکر:** هر زمان در سؤالی  $\Delta$  و  $\delta$  با هم داده شد، بهتر است که از نامساوی استفاده نشود. برای حل این سؤالها اغلب با توجه به دنباله‌ی درجه‌ی رئوس، گراف با بیشترین و کمترین اندازه را می‌سازیم.

(آزمون‌های گانج)

**مثال ۲۲:** در گرافی  $p = 10$ ،  $\Delta = 7$  و  $\delta = 2$  است. اندازه‌ی گراف کدام گزینه می‌تواند باشد؟

- ۱۳ (۱)      ۱۲ (۲)      ۳۳ (۳)      ۳۴ (۴)

**پاسخ:** خوب احتمالاً با توجه به مثال‌های قبلی رفتید سراغ نامساوی و با تعجب می‌بینید که همه‌ی گزینه‌ها درستند!!!

$$\delta = 2 \leq \frac{2q}{p} \leq \Delta = 7 \Rightarrow 20 \leq 2q \leq 70 \Rightarrow 10 \leq q \leq 35$$

پس این نامساوی در این سؤال کمکی نمی‌کند. اما برای آن که بیشترین اندازه به دست آید باید تا می‌توانیم در دنباله تعداد درجات ۷ را زیاد کنیم. ما در دنباله قطعاً یک رأس درجه‌ی ۲ داریم، پس حداکثر ۹ رأس درجه‌ی ۷ می‌توان نوشت. ولی تعداد رئوس درجه‌ی فرد باید زوج باشد، پس ۸ رأس را درجه‌ی ۷ قرار می‌دهیم و رأس دیگر را حداکثر عدد زوج می‌گذاریم که ۶ است، پس خواهیم داشت:

$$2q_{\max} = 8 \times 7 + 6 + 2 = 64 \Rightarrow q_{\max} = 32$$

همین روش را در دنباله‌ی مینیمم انجام می‌دهیم. در اینجا قطعاً یک رأس درجه‌ی ۷ داریم و حداکثر ۹ رأس درجه‌ی ۲ می‌توان داشت که باز هم مشکل تعداد رئوس فرد وجود دارد. پس ۸ رأس را از درجه‌ی ۲ قرار می‌دهیم و رأس دیگر را مینیمم مقدار فرد یعنی عدد ۳ قرار می‌دهیم و خواهیم داشت:

$$2q_{\min} = 7 + 3 + 8 \times 2 = 26 \Rightarrow q_{\min} = 13$$

پس در مورد اندازه‌ی گراف داریم:  $13 \leq q \leq 32$  و گزینه‌ی (۱) صحیح است.

**تذکر:** اگر در گراف  $\Delta = p - 1$  بود، حواستان به این باشد که حداکثر به اندازه‌ی  $\delta$  می‌توانیم رأس با درجه‌ی  $\Delta$  داشته باشیم. مثلاً اگر در همین تست  $\Delta = 9$  و  $\delta = 2$  بود، ما حداکثر می‌توانستیم ۲ رأس درجه‌ی ۹ داشته باشیم.

**مسائلی در مورد ارتباط گراف کامل،  $\Delta$  و  $\delta$**

در بعضی مسائل مربوط به  $\Delta$  و  $\delta$  باید وضعیت گراف موردنظر را با گراف کامل هم‌مرتبه‌اش بررسی کنیم. یعنی گراف کامل هم‌مرتبه با گراف صورت سؤال را در نظر گرفته و با توجه به داده‌های مسئله تعدادی یال را حذف می‌کنیم. گاهی برای راحتی کار، یال‌های حذف شده را رسم می‌کنیم! به مثال بعد توجه کنید:

**مثال ۲۳:** گرافی از مرتبه‌ی ۵ و اندازه‌ی ۹ است. درجه‌ی چند رأس این گراف از درجه‌ی ماکزیمم است؟

۲ (۱)      ۳ (۲)      ۴ (۳)      ۵ (۴)

**پاسخ:** در گراف  $K_5$ ،  $\frac{5 \times 4}{2} = 10$  یال وجود دارد، پس باید یک یال از گراف  $K_5$  حذف کنیم تا به گراف موردنظر سؤال برسیم. برای راحتی کار، یال حذف شده را رسم می‌کنیم و درجه‌ی هر رأس را کنار آن می‌نویسیم. درجه‌ی رئوسی که یالی از آن‌ها حذف نشده برابر ۴ و درجه‌ی رئوسی که یال حذف شده دارند ۳ است. پس ۳ رأس از درجه‌ی  $\Delta = 4$  داریم و گزینه‌ی (۲) صحیح است.

**مثال ۲۴:** گرافی از مرتبه‌ی ۶ و اندازه‌ی ۱۳ است. درجه‌ی چند رأس این گراف، از درجه‌ی مینیمم است؟

۱ یا ۳ (۱)      ۲ یا ۳ (۲)      ۳ یا ۴ (۳)      ۴ یا ۵ (۴)

**پاسخ:** در اینجا با توجه به فرض مسئله باید از گراف  $K_6$  دو یال حذف کنیم. در این صورت دو گراف می‌توان رسم کرد که در یکی دو یال حذف شده با هم در یک رأس مشترک هستند و در دیگری رأس مشترک ندارند. به شکل‌های مقابل توجه کنید (که در آن‌ها یال‌های حذف شده را رسم کرده‌ایم و درجه‌ی هر رأس را کنار آن نوشته‌ایم):

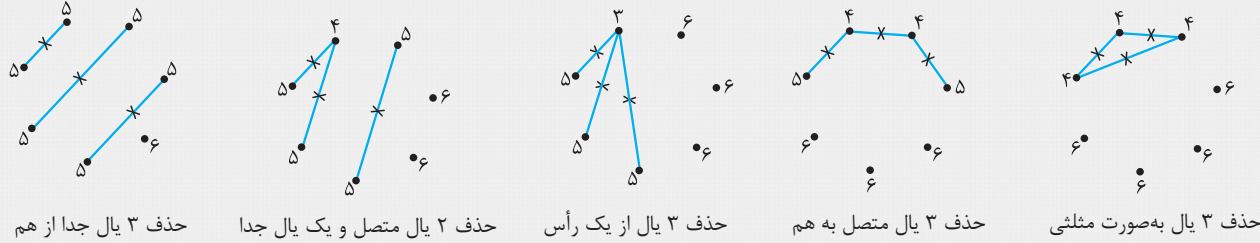
درجه‌ی هر رأس گراف  $K_6$  برابر ۵ است. با توجه به یال‌های حذف شده، درجه‌ی رئوس را به دست می‌آوریم: در گراف شکل (۱)، یک رأس از درجه‌ی  $\delta = 3$  و در گراف شکل (۲)، ۴ رأس از درجه‌ی  $\delta = 4$  وجود دارد و گزینه‌ی (۴) صحیح است.



**مثال ۲۵:** در گرافی با  $p = 7$  و  $q = 18$  است. حداکثر چند رأس گراف از درجه‌ی  $\Delta$  می‌باشد؟

- (۱) ۶ (۲) ۵ (۳) ۴ (۴) ۳

**پاسخ:** در این مثال نسبت به گراف  $k_7$ ، ۳ یال کم‌تر داریم. تمامی حالات حذف ۳ یال را رسم می‌کنیم.



در تمامی گراف‌ها  $\Delta = 6$  است و به ترتیب از سمت چپ به تعداد ۱، ۲، ۳، ۳ و ۴ رأس از درجه‌ی  $\Delta$  هستند و گزینه‌ی (۳) صحیح است.

**توجه:** دقت کنید که هر چه یال‌های حذف شده در تعداد رئوس کم‌تری قرار بگیرند، تعداد رئوس درجه‌ی ماکزیمم بیشتر خواهد شد.

**مثال ۲۶:** در گرافی با  $p = 10$  و  $q = 25$ ، حداکثر چند رأس با درجه‌ی ۹ وجود دارد؟


- (۱) ۳ (۲) ۲ (۳) ۶ (۴) ۵

**پاسخ:** باید از گراف  $k_1$  که دارای ۴۵ یال است، ۲۰ یال را حذف کنیم. برای آن که تعداد رئوس درجه‌ی ۹ بیش‌تر شود، این ۲۰ یال را باید در

تعداد رأس کم‌تری قرار دهیم. در واقع باید نزدیک‌ترین گراف کامل که به ۲۰ یال وجود دارد را بیابیم و داریم:  $\frac{p'(p'-1)}{2} \leq 20$  که  $\min(p') = 7$  است. بنابراین از ۷ رأس، ۲۰ یال را حذف می‌کنیم و به این ترتیب از ۳ رأس هیچ یالی حذف نمی‌شود و درجه‌ی آن‌ها ۹ باقی می‌ماند، بنابراین گزینه‌ی (۱) صحیح است.

**مکمل یک گراف**

**تعریف:** گراف مکمل  $G$  را با  $G'$  یا  $\bar{G}$  نمایش می‌دهیم و گرافی است که از حذف کردن یال‌های گراف  $G$  از گراف کامل هم‌مرتبه‌اش به وجود می‌آید. در واقع هر یالی که در  $G$  وجود دارد در  $G'$  رسم نمی‌شود و هر یالی که در  $G$  وجود ندارد در  $G'$  رسم می‌شود.



به زبان ریاضی: «دو گراف  $G$  و  $G'$  با  $p$  رأس مکمل هستند، هرگاه:  $V(G) = V(G')$ ،  $E(G) \cap E(G') = \emptyset$ ،  $E(G) \cup E(G') = k_p$ ».

**چند ویژگی از گراف مکمل**

(۱)  $(G')' = G$

(۲)  $p_G = p_{G'}$

(۳) اجتماع یال‌های هر گراف با یال‌های گراف مکملش برابر با گراف کامل هم‌مرتبه‌اش است.  $q_G + q_{G'} = \frac{p(p-1)}{2} = \binom{p}{2}$

(۴) مجموع درجه‌ی هر رأس در گراف  $G$  و درجه‌ی همان رأس در گراف  $G'$ ، برابر درجه‌ی رئوس گراف کامل هم‌مرتبه با  $G$  یعنی  $p-1$  است.

$\deg(v_G) + \deg(v_{G'}) = p - 1$

(۵) رأسی که در گراف  $G$ ، ماکزیمم درجه را دارد، در گراف  $G'$  رأسی با مینیمم درجه است و بالعکس.

(۶)  $\Delta_G + \delta_{G'} = p - 1$ ،  $\delta_G + \Delta_{G'} = p - 1$

**مثال ۲۷:** تعداد یال‌های گراف  $G$  با تعداد یال‌های گراف مکملش برابر شده است. مرتبه‌ی گراف کدام گزینه می‌تواند باشد؟

- ۱۰ (۱)      ۱۱ (۲)      ۱۳ (۳)      ۱۴ (۴)

**پاسخ:** با توجه به این که  $q_G = q_{G'}$  است و  $q_G + q_{G'} = \frac{p(p-1)}{2}$ ، پس باید عددی زوج باشد. گزینه‌ها را امتحان می‌کنیم:

$$p = 10 \Rightarrow \frac{10 \times 9}{2} = 45, \quad p = 11 \Rightarrow \frac{11 \times 10}{2} = 55$$

$$p = 13 \Rightarrow \frac{13 \times 12}{2} = 78, \quad p = 14 \Rightarrow \frac{14 \times 13}{2} = 91$$

بنابراین گزینه‌ی (۳) صحیح است.

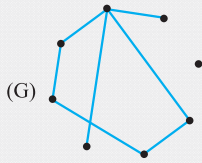
**مثال ۲۸:** گراف  $G$  به صورت مقابل مفروض است.  $\delta_{G'}$  کدام است؟

۵ (۱)

۴ (۲)

۳ (۳)

۲ (۴)



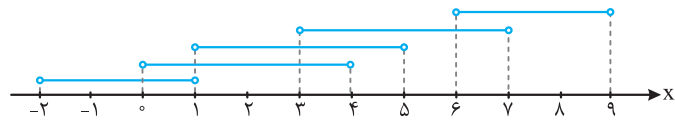
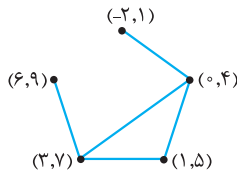
$$\Delta_G + \delta_{G'} = p - 1 \Rightarrow 4 + \delta_{G'} = 8 - 1 \Rightarrow \delta_{G'} = 3$$

**پاسخ:**

بنابراین گزینه‌ی (۳) صحیح است.

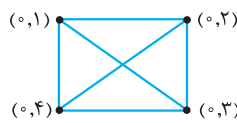
### گراف بازها

**تعریف:** گراف  $G$ ، گراف بازهای یا بازها است، اگر بتوانیم به رئوس آن بازه‌هایی باز از اعداد حقیقی را طوری نسبت دهیم که بازه‌ی مربوط به دو رأس مجاور، دارای اشتراک باشند و بازه‌ی دو رأس غیر مجاور، اشتراک نداشته باشند.



**نکته:** تمام گراف‌های کامل و گراف‌های تهی بازها هستند.

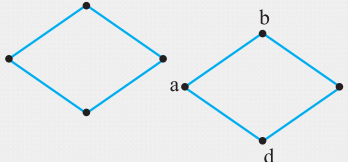
برای نمونه به گراف‌های  $K_4$  و  $\bar{K}_4$  توجه کنید که چگونه بازبندی شده‌اند:



**مثال ۲۹:** ثابت کنید گراف مقابل گراف بازها نیست.

**پاسخ:**

با توجه به گراف مقابل، باید بازه‌ی رئوس  $b$  و  $d$  با بازه‌ی رأس  $a$  دارای اشتراک باشند ولی با هم اشتراک نداشته باشند. پس بازه‌های آن‌ها به صورت  $\text{---} b \text{---} \text{---} d \text{---}$  می‌باشد. حالا باید بازه‌ی رأس  $c$  با



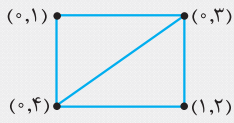
بازه‌های رئوس  $b$  و  $d$  دارای اشتراک باشد ولی با بازه‌ی رأس  $a$  اشتراک نداشته باشد که چنین بازه‌ای وجود ندارد.

**توجه:** گراف‌های هم با گراف مثال بالا معادلند و گراف بازها نیستند.


**نکته:** در حالت کلی هر  $n$  ضلعی ( $n \geq 4$ ) بدون قطر، گراف بازها نیست. هر  $n$  ضلعی با یک قطر که  $n \geq 5$  باشد نیز گراف بازها نیست.

**توجه:** گرافی که شامل یک چهارضلعی بدون قطر باشد، گراف بازها نیست.

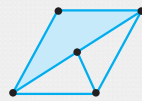
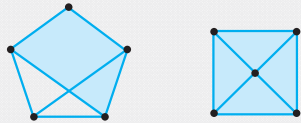
**مثال ۳۰:** آیا چهارضلعی با یک قطر، گراف بازه‌ای است؟  
**پاسخ:** بله، بازه‌ای است. برای نمونه به گراف روبه‌رو توجه کنید:



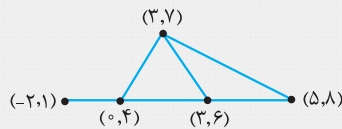
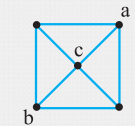
**مثال ۳۱:** کدام گزینه گراف بازه‌ای می‌باشد؟



**پاسخ:** در گزینه‌های (۱)، (۲) و (۳) می‌توان چهارضلعی بدون قطر را مشاهده کرد.



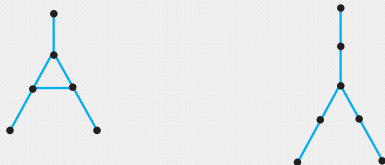
توجه کنید در گراف گزینه‌ی (۲) قطرها رسم نشده‌اند بلکه رئوس  $a$  و  $b$  به رأس  $c$  متصل شده است.



برای گزینه‌ی (۴) که صحیح است، می‌توان بازه‌های مناسب را نسبت داد:

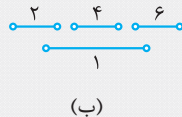
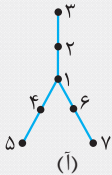
**توجه:** عکس نکته‌ی قبل صحیح نمی‌باشد. یعنی اگر گرافی، گراف بازه‌ای نباشد دلیلی ندارد که شامل  $n$  ضلعی ( $n \geq 4$ ) بدون قطر باشد.

**مثال ۳۲:** ثابت کنید گراف‌های زیر بازه‌ای نیستند؟

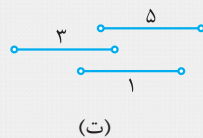
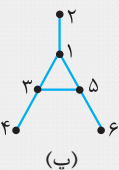


**پاسخ:** این دو گراف با این که  $n$  ضلعی بدون قطر ( $n \geq 4$ ) ندارند ولی بازه‌ای نیستند.

ابتدا رئوس و متناسب با آن بازه‌های مربوط به رئوس را نام‌گذاری می‌کنیم. بازه‌های (۲)، (۴) و (۶) یعنی بازه‌های مربوط به رئوس (۲)، (۴) و (۶) با بازه‌ی (۱) اشتراک دارند ولی با هم اشتراک ندارند پس می‌توان بازه‌های آن‌ها را به‌صورت نمودار (ب) نمایش داد (توجه کنید که از بازه‌های (۲)، (۴) و (۶) بالاخره یکی وسط قرار می‌گیرد و در نمودار ما بازه‌ی (۴) در وسط قرار گرفته است). بازه‌ی (۵) باید با بازه‌ی (۴) اشتراک داشته باشد و با بازه‌ی (۱) اشتراک نداشته باشد که چنین بازه‌ای وجود ندارد.



در گراف شکل (پ) نیز بازه‌های (۱)، (۳) و (۵) دوه‌دو با هم دارای اشتراکند و نمودار آن‌ها به‌صورت (ت) است. باز هم یک بازه در وسط قرار می‌گیرد که در اینجا بازه‌ی (۱) قرار گرفته است. بازه‌ی (۲) باید با بازه‌ی (۱) دارای اشتراک باشد و با بازه‌های (۳) و (۵) اشتراک نداشته باشد که چنین بازه‌ای وجود ندارد.



## گراف مشاغل

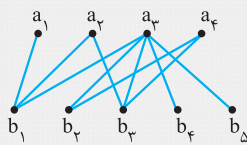
در این نوع مسائل، افرادی برای تعدادی شغل داوطلب شده‌اند و باید شغل‌ها را بین آن‌ها تقسیم کرد. در حل این نوع مسائل به چند نکته توجه کنید:

- (۱) این شغل‌ها تمام وقت هستند، پس هر نفر حداکثر یک شغل را می‌تواند داشته باشد.
- (۲) هر شغل برای یک نفر می‌باشد و نمی‌توان یک شغل را به چند نفر داد.
- (۳) هدف حل مسأله این است که تمامی شغل‌ها پر شوند.
- (۴) حل مسأله را از شغل‌هایی آغاز می‌کنیم که داوطلب کم‌تری دارند.

۲۱

**مثال ۳۳:** برای ۴ شغل تمام‌وقت  $a_1, a_2, a_3, a_4$ ، ۵ نفر  $b_1, b_2, b_3, b_4, b_5$  مطابق گراف مقابل داوطلب شده‌اند. به چند روش می‌توان این

(مثال ۳ کتاب درسی - صفحه ۱۴)



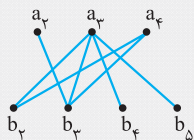
شغل‌ها را بین این افراد تقسیم کرد؟

(۱) نشدنی

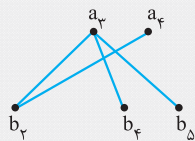
(۲) ۱

(۳) ۲

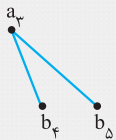
(۴) ۳



**پاسخ:** برای حل این مثال، شغل  $a_1$  فقط یک داوطلب دارد، پس به فرد  $b_1$  می‌رسد. حال می‌توان رئوس  $a_1$  و  $b_1$  را از مسأله حذف کرد.



در گراف باقی‌مانده برای شغل  $a_2$  فقط فرد  $b_3$  داوطلب شده است. پس شغل  $a_2$  برای فرد  $b_3$  است و آن‌ها را نیز حذف می‌کنیم.



در مرحله‌ی بعد برای شغل  $a_3$  فقط فرد  $b_2$  باقی‌مانده است و این شغل برای فرد  $b_2$  است و داریم:

در پایان از بین دو فرد  $b_4$  یا  $b_5$  یکی شغل  $a_4$  را می‌گیرد. پس در کل به ۲ حالت می‌توان شغل‌ها را بین این افراد تقسیم کرد. بنابراین گزینه‌ی (۳) صحیح است.

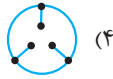
**توجه:** در بعضی از این نوع مسائل تمام افراد برای تمام شغل‌ها داوطلب شده‌اند که در واقع یک گراف مشاغل کامل می‌باشد و در بعضی مسائل مانند مثال فوق همی افراد برای همی مشاغل داوطلب نشده‌اند که یک گراف مشاغل ناقص داریم.



تست‌های جلسه اول

(آزمون‌های گاج)

۱. کدام گراف زیر ساده است؟



(۴)



(۳)



(۲)



(۱)

۲. در گراف ساده‌ی  $G$  با مجموعه رئوس  $V = \{1, 2, 3, 4, 5, 6\}$  دو رأس مجاورند اگر و تنها اگر مجموع اعداد دو رأس بر ۳ بخش‌پذیر باشد. اندازه‌ی گراف کدام است؟ (آزمون‌های گاج)

۷ (۴)

۶ (۳)

۵ (۲)

۴ (۱)

۳. تعداد رأس‌ها و یال‌های گراف  $G = (V, E)$  با  $V = \{v_1, v_2, v_3, v_4, v_5\}$  و  $E = \{v_1v_2, v_1v_4, v_2v_3, v_2v_4, v_3v_5\}$  به ترتیب برابر: (آزمون‌های گاج)

۵ و ۷ است.

۵ و ۴ است.

۵ و ۸ است.

۸ و ۵ است.

(آزمون‌های گاج)

۴. کدام یک از گزینه‌های زیر دنباله‌ی درجه‌ی رئوس یک گراف ساده است؟

۷, ۷, ۷, ۶, ۶, ۶, ۵, ۲ (۴)

۶, ۶, ۵, ۴, ۳, ۳, ۱ (۳)

۵, ۴, ۳, ۳, ۲, ۱ (۲)

۵, ۴, ۳, ۲, ۱, ۱ (۱)

۵. اگر  $x, y, 4, x, 5, 6, 6, 6$  دنباله‌ی درجه‌ی رئوس یک گراف ساده باشد،  $x + y$  کدام است؟

۹ (۴)

۷ (۳)

۶ (۲)

۵ (۱)

۶. گراف ساده‌ای با اندازه‌ی  $q = 13$  حداقل چند رأس دارد؟

۶ (۴)

۷ (۳)

۴ (۲)

۵ (۱)

۷. در گرافی  $p = 20$  و  $q = 17$ ، حداکثر چند رأس درجه‌ی صفر می‌توانیم داشته باشیم؟

۱۶ (۴)

۱۵ (۳)

۱۴ (۲)

۱۳ (۱)

۸. گرافی با ۲۴ یال فقط رئوس با درجات ۴ و ۷ دارد. مرتبه‌ی گراف کدام است؟

۹ (۴)

۸ (۳)

۱۰ (۲)

۱۱ (۱)

۹. در گرافی با اندازه‌ی ۱۲، مجموع درجه‌ی رئوس زوج برابر ۱۲ است. اگر رئوس فرد همگی هم‌درجه باشند، آن‌گاه تعداد آن‌ها کدام می‌تواند باشد؟ (آزمون‌های گاج)

۱۲ (۴)

۶ (۳)

۵ (۲)

۳ (۱)

(آزمون‌های گاج)

۱۰. در گرافی از مرتبه‌ی ۸ و اندازه‌ی ۱۴، اگر  $\delta = 3$ ،  $\Delta = 5$  و دو رأس از درجه‌ی ۴ باشد، تعداد رئوس با درجه‌ی ۳ کدام است؟

۵ (۴)

۳ (۳)

۲ (۲)

۱ (۱)

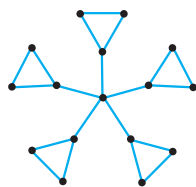
۱۱. به گراف مقابل چند یال اضافه کنیم تا گراف کامل شود؟

۸۰ (۱)

۹۰ (۲)

۱۰۰ (۳)

۱۲۰ (۴)



(آزمون‌های گاج)

۱۲. اگر تعداد یال‌های یک گراف  $2 -$  منتظم،  $60$  باشد، مرتبه‌ی آن کدام عدد می‌تواند باشد؟

۶ (۴)

۵ (۳)

۱۲ (۲)

۱۰ (۱)

۱۳. برای تبدیل یک گراف  $5 -$  منتظم از مرتبه‌ی  $p$  به گراف کامل از همان مرتبه، لازم است  $20$  یال به آن گراف اضافه شود.  $p$  کدام است؟ (آزمون‌های گاج)

۱۴ (۴)

۱۲ (۳)

۱۰ (۲)

۸ (۱)

۱۴. در گراف  $G$  از مرتبه‌ی ۱۳، دنباله‌ی درجه‌ی رئوس آن تشکیل دنباله‌ی هندسی داده است. اگر در این گراف  $\delta = 5$  باشد، مجموع درجه‌ی رئوس گراف کدام است؟

۴ چنین گرافی وجود ندارد.

۲۶۰ (۳)

۱۳۰ (۲)

۶۵ (۱)

۱۵. با برداشتن  $\frac{1}{p}$  از یال‌های گراف کامل  $K_p$ ، یک گراف  $G$  - منتظم به دست می‌آید. این گراف ..... است. (آزمون‌های گاه)
- (۱) ۷ - منتظم (۲) ۸ - منتظم (۳) ۹ - منتظم (۴) ۱۰ - منتظم
۱۶.  $G$  یک گراف ۳ - منتظم از مرتبه‌ی ۶ و  $H$  یک گراف ۲ - منتظم است. هر رأس گراف  $G$  را به تمام رئوس گراف  $H$  وصل می‌کنیم. اگر گراف حاصل منتظم باشد، مرتبه‌ی گراف  $H$  کدام است؟ (آزمون‌های گاه)
- (۱) ۵ (۲) ۶ (۳) ۷ (۴) ۸
۱۷. در چه تعداد از گراف‌های ساده‌ی ساخته‌شده با رئوس  $a, b, c, d, e$  حداقل یکی از دو یال  $ab$  و  $ac$  وجود دارد؟ (آزمون‌های گاه)
- (۱)  $2^5$  (۲)  $3 \times 2^4$  (۳)  $3 \times 2^8$  (۴)  $3^2 \times 2^7$
۱۸. چند گراف ساده با مجموعه رئوس  $V = \{v_1, v_2, v_3, v_4, v_5\}$  قابل رسم است، به طوری که در آن رأس  $v_3$  منفرد و دو رأس  $v_1$  و  $v_2$  مجاور باشند؟ (آزمون‌های گاه)
- (۱) ۱۰۲۴ (۲) ۶۴ (۳) ۶۳ (۴) ۳۲
۱۹. با رئوس  $a, b, c, d, e, f$  چند گراف با اندازه‌ی ۴ می‌توان تشکیل داد، به طوری که شامل یال  $bc$  بوده و در آن رأس  $a$  منفرد باشد؟ (آزمون‌های گاه)
- (۱)  $\binom{10}{4}$  (۲)  $\binom{10}{3}$  (۳)  $\binom{9}{3}$  (۴)  $\binom{9}{4}$
۲۰. با رئوس  $a, b, c, d, e$  چند گراف ساده می‌توان ساخت که در آن‌ها رأس  $a$  از درجه‌ی ۳ باشد؟ (آزمون‌های گاه)
- (۱)  $2^{10}$  (۲)  $2^8$  (۳)  $2^6$  (۴)  $3 \times 2^6$
۲۱. با رئوس  $a, b, c, d, e, f$  چند گراف ساده می‌توان ساخت که فقط شامل ۲ یال بوده و این دو یال در یک رأس مشترک نباشند؟ (آزمون‌های گاه)
- (۱) ۴۵ (۲) ۶۵ (۳) ۶۰ (۴) ۴۰
۲۲. گرافی با ۱۲ رأس، دارای دو رأس درجه‌ی ۵ و دو رأس درجه‌ی ۳ است. حداکثر تعداد یال‌های این گراف کدام است؟ (آزمون‌های گاه)
- (۱) ۵۰ (۲) ۴۴ (۳) ۶۰ (۴) ۴۲
۲۳. کدام گراف ساده‌ی زیر وجود دارد؟ (آزمون‌های گاه)
- (۱) گرافی با ۵ رأس که هر رأس آن با ۳ رأس دیگر مجاور است. (۲) گرافی با درجه‌ی رئوس  $0, 1, 1, 3, 3, 5, 5$ . (۳) گراف ۸ - منتظم با اندازه‌ی ۲۴ (۴) گراف ۷ - منتظم با اندازه‌ی ۳۵
۲۴. تعداد یال‌های یک گراف، ۳ برابر تعداد یال‌های گراف مکمل آن است. مرتبه‌ی گراف، کدام گزینه می‌تواند باشد؟ (آزمون‌های گاه)
- (۱) ۱۸ (۲) ۱۷ (۳) ۱۵ (۴) ۱۴
۲۵. در یک گراف از مرتبه‌ی ۹، اندازه‌ی گراف ۱۱ است. اگر این گراف یک رأس از درجه‌ی  $\delta = 1$  و یک رأس از درجه‌ی  $\Delta = 4$  داشته باشد، تعداد رئوس فرد این گراف کدام است؟ (آزمون‌های گاه)
- (۱) ۸ (۲) ۲ (۳) ۴ (۴) ۶
۲۶. گرافی از مرتبه‌ی ۹ و اندازه‌ی ۱۳ است. این گراف حداکثر چند رأس از درجه‌ی صفر دارد؟ (آزمون‌های گاه)
- (۱) ۳ (۲) ۴ (۳) ۵ (۴) ۶
۲۷. در گرافی  $p = 20$  و  $q = 20$  است. حداکثر چند رأس با درجه‌ی یک می‌توانیم داشته باشیم؟ (آزمون‌های گاه)
- (۱) ۱۳ (۲) ۱۴ (۳) ۱۵ (۴) ۱۷
۲۸. در گرافی ساده از مرتبه‌ی ۸، مینیمم درجه‌ی رئوس، برابر ۳ است. حداکثر اندازه‌ی گراف چند است؟ (آزمون‌های گاه)
- (۱) ۲۲ (۲) ۲۳ (۳) ۲۴ (۴) ۲۵
۲۹. گراف  $G$  از مرتبه‌ی  $p$  و اندازه‌ی ۱۲ است. حداکثر مقدار  $\delta$  کدام می‌تواند باشد؟ (آزمون‌های گاه)
- (۱) ۳ (۲) ۴ (۳) ۵ (۴) ۲
۳۰. گرافی از مرتبه‌ی ۸ دارای ۲۵ یال است. این گراف حداکثر چند رأس با درجه‌ی ماکزیمم دارد؟ (آزمون‌های گاه)
- (۱) ۴ (۲) ۵ (۳) ۶ (۴) ۷
۳۱. گرافی ۹ رأس و ۲۷ یال دارد. حداقل مقدار  $\delta - \Delta$  کدام است؟ (آزمون‌های گاه)
- (۱) ۷ (۲) ۸ (۳) صفر (۴) ۱

۳۲. در گراف ساده  $G = (V, E)$  از مرتبه  $10$  و اندازه  $40$ ، حداکثر چند رأس می‌توانند ماکزیمم درجه را داشته باشند؟ (آزمون‌های گاج)

- ۶ (۱) ۷ (۲) ۱۰ (۳) ۵ (۴)

۳۳. به گراف بازه‌های  $(7, 10)$ ،  $(9, 11)$ ،  $(8, 10)$ ،  $(7, 9)$  و  $(6, 8)$  چند یال اضافه کنیم تا همه‌ی رئوس با هم مجاور باشند؟ (آزمون‌های گاج)

- ۲ (۱) ۳ (۲) ۴ (۳) ۵ (۴)

۳۴. گرافی ساده با دنباله‌ی درجات رئوس  $1, 1, 1, 3, 3, 3$  به چند طریق متناظر با بازه‌ها است؟ (آزمون‌های گاج)

- ۱ (۱) ۲ (۲) ۳ بی‌شمار (۳) ۴ نشدنی (۴)

۳۵. کدام گزینه گراف بازه‌ای نیست؟



۳۶. کدام یک از گراف‌های زیر، یک گراف بازه‌ای است؟ (آزمون‌های گاج)



۳۷. در گراف ساده  $G$  از مرتبه  $11$ ، سه رأس از درجات  $7$ ،  $3$  و  $5$  وجود دارد. حداکثر اندازه‌ی گراف  $G$  کدام است؟ (آزمون‌های گاج)

- ۴۵ (۱) ۴۲ (۲) ۴۳ (۳) ۴۴ (۴)

۳۸. گرافی فقط رأس‌هایی از درجه‌ی  $2$  و  $8$  دارد. اختلاف مرتبه و اندازه‌ی این گراف کدام یک از اعداد زیر می‌تواند باشد؟ (آزمون‌های گاج)

- ۴۴ (۱) ۳۸ (۲) ۴۰ (۳) ۴۲ (۴)

۳۹. در گرافی از مرتبه  $7$ ،  $\Delta = 6$  و  $\delta = 2$  است. حداکثر اندازه‌ی این گراف کدام است؟ (آزمون‌های گاج)

- ۱۶ (۱) ۱۷ (۲) ۱۸ (۳) ۱۹ (۴)

۴۰. در گرافی  $p = 10$  و دارای دو رأس درجه‌ی  $5$  است. این گراف حداکثر و حداقل چند یال دارد؟

- ۹ و ۳۸ (۱) ۹ و ۳۷ (۲) ۱۰ و ۳۸ (۳) ۱۰ و ۳۷ (۴)

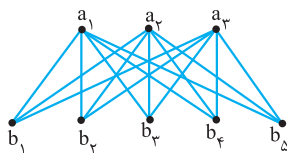
۴۱. اگر در یک گراف  $q = 6p + 2$  باشد، حداقل اندازه‌ی گراف کدام است؟

- ۸۲ (۱) ۸۴ (۲) ۸۸ (۳) ۸۶ (۴)

۴۲. در گراف ساده‌ای با اندازه  $10$ ،  $\delta = 2$  است. این گراف حداقل چند رأس دارد؟ (آزمون‌های گاج)

- ۵ (۱) ۶ (۲) ۷ (۳) ۱۰ (۴)

۴۳. برای  $3$  شغل تمام‌وقت  $a_1$ ،  $a_2$  و  $a_3$ ،  $5$  نفر  $b_1$ ،  $b_2$ ،  $b_3$ ،  $b_4$  و  $b_5$  مطابق گراف مقابل داوطلب شده‌اند. به چند روش شغل‌ها را بین افراد می‌توان تقسیم کرد؟



- ۶۰ (۱)  
۱۲۰ (۲)  
۴۵ (۳)  
۳۰ (۴)

پاسخ تست‌های جلسه اول

۹ (۱) (۲) (۳) (۴)

$$\sum \deg(a_i) = 2q$$

$24 = (\text{مجموع درجه‌ی رئوس زوج}) + (\text{مجموع درجه‌ی رئوس فرد}) \Rightarrow$   
اگر تعداد  $x$  رأس با درجه‌ی فرد  $r$  داشته باشیم، آن‌گاه:

$$xr + 12 = 24 \Rightarrow xr = 12$$

با توجه به این‌که  $r$  عددی فرد است پس  $r$  می‌تواند اعداد ۱ یا ۳ باشد  
و  $x$  می‌تواند ۱۲ یا ۴ باشد که ۱۲ در گزینه‌ها وجود دارد.

۱۰ (۱) (۲) (۳) (۴)

فرض کنیم  $x$  رأس از درجه‌ی ۳ و  $y$  رأس از درجه‌ی ۵ باشد. بنابراین داریم:

$$\begin{cases} x + y + 2 = 8 \\ 3x + 5y + 8 = 28 \end{cases} \Rightarrow \begin{cases} x + y = 6 \\ 3x + 5y = 20 \end{cases} \Rightarrow x = 5, y = 1$$

این گراف از مرتبه‌ی ۱۶ است و دارای ۲۰ یال است و گراف  $k_{16}$  دارای

$$12 = \frac{15 \times 8}{2} \text{ یال است، پس } 100 - 20 = 120 \text{ یال باید اضافه شود.}$$

۱۲ (۱) (۲) (۳) (۴)

$$q = \frac{rp}{r} \Rightarrow rp = 120, r < p$$

با توجه به شرط  $r < p$ ، می‌توان  $p = 12$  را قابل قبول دانست.

۱۳ (۱) (۲) (۳) (۴)

$$\frac{\Delta p}{2} = \text{تعداد یال‌های گراف ۵-منتظم}$$

$$\frac{\Delta p}{2} + 20 = \frac{p(p-1)}{2}$$

$$\Rightarrow \Delta p + 40 = p^2 - p \Rightarrow p^2 - 6p - 40 = 0$$

$$(p-10)(p+4) = 0 \Rightarrow p = 10 \text{ یا } p = -4 \text{ غ ق ق}$$

۱۴ (۱) (۲) (۳) (۴)

اگر در گرافی دنباله‌ی درجه‌ی رئوس تشکیل دنباله‌ی حسابی یا هندسی دهد باید تمام رئوس هم‌درجه باشند و با توجه به این‌که  $\delta = 5$  است، باید یک گراف ۱۳ رأسی ۵-منتظم داشته باشیم که چنین گرافی وجود ندارد.

۱۵ (۱) (۲) (۳) (۴)

اگر  $\frac{1}{3}$  یال‌های گراف  $k_p$  حذف شوند، پس  $\frac{2}{3}$  یال‌ها باقی می‌ماند.

$$\frac{2}{3} \times \frac{p(p-1)}{2} = \frac{p \times 6}{2}$$

$$\Rightarrow \frac{p^2 - p}{3} = 3p \Rightarrow p^2 - p = 9p \Rightarrow p^2 = 10p \Rightarrow p = 10$$

گراف  $k_{10}$  یک گراف ۹-منتظم است.

۱۶ (۱) (۲) (۳) (۴)

بعد از این‌که تمام رئوس گراف‌های  $G$  و  $H$  را به هم وصل کنیم، درجه‌ی هر رأس در گراف  $G$  برابر  $3 + p_H$  می‌شود و درجه‌ی هر رأس از گراف  $H$  برابر با  $2 + 6$  است. پس:

$$3 + p_H = 2 + 6 \Rightarrow p_H = 5$$

۱۷ (۱) (۲) (۳) (۴)

طبق فرض سؤال یال‌های  $ab$  و  $ac$  روی هم دارای ۳ حالتند: یا هر دو در گراف هستند، یا این‌که فقط یال  $ab$  یا فقط یال  $ac$  در گراف باشد، ۸ یال دیگری که می‌توان با این ۵ رأس ساخت هر کدام دارای ۲ حالتند. پس در کل  $3 \times 2^8$  گراف می‌توان ساخت.

۱ (۱) (۲) (۳) (۴)



گزینه‌ی (۱) دارای یال موازی است.

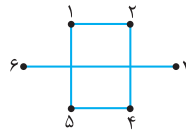


گزینه‌ی (۲) دارای طوقه است.



گزینه‌ی (۳) دارای یال موازی است.

۲ (۱) (۲) (۳) (۴)



هر دو عددی را که مجموع آن‌ها

مضرب ۳ است، به هم وصل می‌کنیم

و گراف مقابل به دست می‌آید:

۳ (۱) (۲) (۳) (۴)

تعداد اعضای مجموعه‌ی  $V$  برابر با تعداد رئوس (مرتبه) و تعداد اعضای مجموعه‌ی  $E$  برابر با تعداد یال‌های (اندازه‌ی) گراف است.

۴ (۱) (۲) (۳) (۴)

گزینه‌ی (۳) نادرست است، چون دارای ۷ رأس است و ۲ رأس درجه‌ی ۶ (فول) دارد، پس درجه‌ی باقی رئوس باید حداقل ۲ باشد.

گزینه‌ی (۴) نادرست است، چون دارای ۸ رأس است و ۳ رأس درجه‌ی ۷ (فول) دارد، پس درجه‌ی باقی رئوس باید حداقل ۳ باشد.

برای گزینه‌های (۱) و (۲) نیز می‌توانیم از روش هاول-حکیمی استفاده کنیم.

گزینه‌ی (۱):  $1, 1, 2, 3, 4, 4$  گزینه‌ی (۲):  $1, 1, 2, 3, 3, 4$

$1, 0, 0, 1, 0, 0$

$1, 0, -1, 0$

$1, 0, 0, 2, 2, 3$

$1, 0, 0, 1, 0, 0$

دنباله‌ی درجه‌ی رئوس

دنباله‌ی درجه‌ی رئوس

یک گراف ساده نیست.

یک گراف ساده است.

۵ (۱) (۲) (۳) (۴)

گراف دارای ۷ رأس است و ۳ رأس از درجه‌ی ۶ (فول) دارد.

پس  $3 \leq x, y$  و با توجه به نزولی بودن دنباله داریم  $x, y \leq 4$  و تعداد رئوس فرد در گراف باید عددی زوج باشد. پس  $y = 3$  و  $x = 4$  و

$$x + y = 7$$

۶ (۱) (۲) (۳) (۴)

$$q = 13 \leq \frac{p(p-1)}{2} \Rightarrow \min(p) = 6$$

۷ (۱) (۲) (۳) (۴)

برای حداکثر شدن تعداد رئوس درجه‌ی صفر باید ۱۷ یال در تعداد رأس

کم‌تری قرار بگیرند و با توجه به نامساوی  $q = 17 \leq \frac{p'(p'-1)}{2}$  حداقل

مقدار  $p'$  برابر ۷ است. پس در ۷ رأس ۱۷ یال را رسم می‌کنیم و در نتیجه  $13 = 7 - 20$  رأس منفرد خواهیم داشت.

۸ (۱) (۲) (۳) (۴)

اگر  $x$  تا رأس از درجه‌ی ۴ و  $y$  تا رأس از درجه‌ی ۷ باشد

داریم  $\sum \deg(a_i) = 4x + 7y = 48$  یک جواب معادله  $x = 12$  و  $y = 0$  و یک جواب دیگر  $x = 5$  و  $y = 4$  است و در اعداد حسابی جواب دیگری ندارد. با توجه به گزینه‌ها گزینه‌ی (۴) صحیح است.



۲۴ (۴ ۳ ۲ ۱)

$$\begin{cases} q_G = 3q_{G'} \\ q_G + q_{G'} = \frac{p(p-1)}{2} \Rightarrow 4q_{G'} = \frac{p(p-1)}{2} \end{cases}$$

$\Rightarrow p(p-1) = 8q_{G'}$   
 که با توجه به گزینه‌ها اگر  $p = 17$  باشد، حاصل  $p(p-1)$  مضرب ۸ است.

۲۵ (۴ ۳ ۲ ۱)

با توجه به این که  $\delta = 1$  و  $\Delta = 4$  است درجه‌ی باقی رئوس ۲ یا ۳ است. اگر  $x$  رأس از درجه‌ی ۲ باشد، این گراف به تعداد  $7-x-1-1-x$  رأس درجه‌ی ۳ دارد.

$$\sum_{i=1}^9 \deg(a_i) = 2q \Rightarrow 1 \times 1 + x \times 2 + (7-x) \times 3 + 1 \times 4 = 22$$

$\Rightarrow 1 + 2x + 21 - 3x + 4 = 22 \Rightarrow x = 4$   
 پس این گراف، ۳ رأس درجه‌ی ۳ و یک رأس درجه‌ی ۱ دارد.

۲۶ (۴ ۳ ۲ ۱)

باید تا می‌توانیم این ۱۳ یال را در تعداد رأس کم‌تری قرار دهیم. از نامساوی  $13 \leq \frac{p'(p'-1)}{2}$  حداقل مقدار  $p'$  برابر با ۶ است. پس حداکثر  $3 = 6 - 9$  رأس درجه‌ی صفر داریم.

۲۷ (۴ ۳ ۲ ۱)

یک رأس را در مرکز قرار می‌دهیم و ۱۹ رأس دیگر را به آن متصل می‌کنیم. در این صورت ۱۹ یال داریم و باید دو رأس درجه‌ی یک را به هم متصل کنیم. پس حداکثر ۱۷ رأس درجه‌ی یک خواهیم داشت.



۲۸ (۴ ۳ ۲ ۱)

درجه‌ی هر رأس گراف  $K_8$  برابر ۷ است. برای آن که  $\delta = 3$  شود، باید از یک رأس ۴ یال را حذف کنیم، بنابراین:

$$q_{\max} = \frac{8 \times 7}{2} - 4 = 24$$

۲۹ (۴ ۳ ۲ ۱)

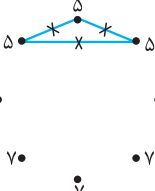
$$q = 12 \leq \frac{p(p-1)}{2} \Rightarrow p \geq 6$$

$$\delta \leq \frac{2q}{p} = \frac{24}{p} \Rightarrow p\delta \leq 24$$

با توجه به این که  $p \geq 6$  پس حداکثر مقدار برای  $\delta$ ، برابر با ۴ است و گراف یک ۶ رأسی ۴-منتظم می‌باشد.

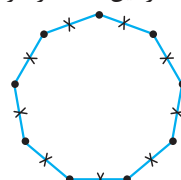
۳۰ (۴ ۳ ۲ ۱)

گراف  $K_8$  دارای ۲۸ یال است و ما باید ۳ یال را حذف کنیم و بهترین حالت این است که ۳ یال را به صورت مثلثی حذف کنیم تا ۵ رأس دیگر همگی از درجه‌ی  $\Delta = 7$  شوند.



۳۱ (۴ ۳ ۲ ۱)

گراف  $K_9$  دارای ۳۶ یال است و گراف ما، ۹ یال کم‌تر از آن دارد. برای آن که  $\Delta$  و  $\delta$  به هم نزدیک‌تر شوند باید یال‌ها را طوری حذف کنیم که از همه‌ی رئوس تقریباً به تعداد مساوی یال حذف شود. در این تست از هر رأس ۲ یال را حذف می‌کنیم. در واقع یک گراف ۹ رأسی ۶-منتظم به وجود می‌آوریم و در این صورت  $\Delta - \delta = 0$  است.



۱۸ (۴ ۳ ۲ ۱)

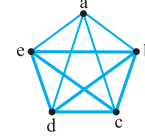
رأس ۷۳ منفرد است و ۴ رأس دیگر می‌توان  $\binom{4}{2} = 6$  یال ساخت که چون یال ۷۱۷۲ وجود دارد، ۵ یال دیگر هر کدام در گراف هستند یا نیستند، پس در کل  $32 = 2^5$  گراف وجود دارد.

۱۹ (۴ ۳ ۲ ۱)

رأس  $a$  منفرد است، پس آن را کنار می‌گذاریم. باید با ۵ رأس باقی‌مانده، که حداکثر  $10 = \frac{5 \times 4}{2}$  یال می‌توان رسم کرد، یک گراف با ۴ یال ساخت که چون یال  $bc$  انتخاب شده باید ۳ یال از بین ۹ یال باقی‌مانده انتخاب کرد. جواب برابر است با:  $\binom{9}{3}$

۲۰ (۴ ۳ ۲ ۱)

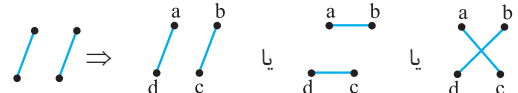
از ۴ یال متصل به رأس  $a$  باید ۳ یال را انتخاب کرد و ۶ یال دیگر که به رأس  $a$  متصل نیستند، هر کدام دارای ۲ حالت هستند.



$$\binom{4}{3} \times 2^6 = 4 \times 2^6 = 2^8$$

۲۱ (۴ ۳ ۲ ۱)

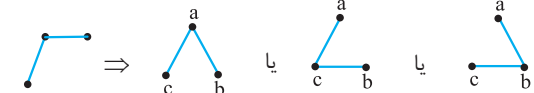
نمودار این گراف به صورت زیر است که از ۴ رأس تشکیل شده است. پس باید ۴ رأس را انتخاب کرد و با این ۴ رأس به ۳ مدل می‌توان ۲ یال جدا از هم را انتخاب کرد. پس جواب برابر است با:  $\binom{6}{4} \times 3 = 45$



سؤال: اگر در این تست بیان می‌شد که دو یال در یک رأس مشترک باشند جواب چیست؟

جواب: نمودار گراف به صورت زیر است که از ۳ رأس تشکیل شده است و باید ۳ رأس را انتخاب کرد و به ۳ مدل می‌توان گراف را نام‌گذاری کرد

$$\text{و جواب برابر است با } \binom{6}{3} \times 3 = 60$$



۲۲ (۴ ۳ ۲ ۱)

فرض کنیم که دو رأس درجه‌ی ۵ و دو رأس درجه‌ی ۳ وجود ندارند. با ۸ رأس باقی‌مانده، گرافی با حداکثر تعداد یال (گراف  $K_8$ ) می‌سازیم. سپس دو رأس درجه‌ی ۵ و دو رأس درجه‌ی ۳ را اضافه می‌کنیم.

$$q_{\max} = \frac{8 \times 7}{2} + 5 + 5 + 3 + 3 = 44$$

توجه کنید که در اضافه کردن دو رأس درجه‌ی ۵ و دو رأس درجه‌ی ۳ برای ماکزیمم شدن یال‌ها نباید بین خود این رئوس یال‌ها را رسم کرد و آن‌ها را به ۸ رأس دیگر متصل می‌کنیم.

۲۳ (۴ ۳ ۲ ۱)

گزینه‌ی (۱) نادرست است، چون گراف ۵ رأسی ۳-منتظم وجود ندارد. گزینه‌ی (۲) نادرست است، چون اگر درجه‌های صفر را در نظر نگیریم، ۶ رأس داریم که دو تا از آن‌ها درجه‌ی ۵ است، پس درجه‌ی باقی رئوس باید حداقل ۲ باشد.

گزینه‌ی (۳) نادرست است، چون اگر  $r = 8$  باشد و  $q = 24$ ، در این صورت  $p = 6$  است که نمی‌توان با ۶ رأس، رأس با درجه‌ی ۸ ساخت. گزینه‌ی (۴) دارای ۱۰ رأس است و چنین گرافی وجود دارد.

۳۹ (۴ ۳ ۲ ۱)

روش اول: گراف  $k_7$  دارای ۲۱ یال است و درجه‌ی تمام رئوس ۶ است. برای آن که یک رأس از درجه‌ی  $\delta = 2$  شود باید ۴ یال را از یک رأس حذف کنیم، پس  $q_{max} = 21 - 4 = 17$ .

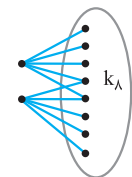
روش دوم: برای آن که  $q$ ، ماکزیمم شود باید تعداد رئوس درجه‌ی ۶ را زیاده‌تر کنیم. اما توجه کنید که با توجه به  $\delta = 2$  حداکثر می‌توانیم ۲ رأس درجه‌ی ۶ داشته باشیم و دنباله‌ی ماکزیمم به صورت ۲, ۵, ۵, ۵, ۵, ۶ است و بنابراین:

$$q_{max} = \frac{6+6+5+5+5+5+2}{2} = 17$$

بررسی کنید آیا با دنباله‌ی فوق می‌توان گراف رسم کرد؟

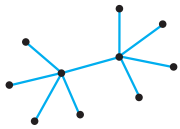
۴۰ (۴ ۳ ۲ ۱)

برای حداکثر شدن تعداد یال‌ها دو رأس از درجه‌ی ۵ داریم و با ۸ رأس دیگر حداکثر تعداد یال یعنی گراف  $k_8$  را می‌سازیم، پس:



$$q_{max} = 5 + 5 + \binom{8}{2} = 38$$

برای حداقل شدن تعداد یال‌ها هم بهتر است دو رأس درجه‌ی ۵ به هم متصل شوند، مانند گراف زیر:



$$q_{min} = 9$$

۴۱ (۴ ۳ ۲ ۱)

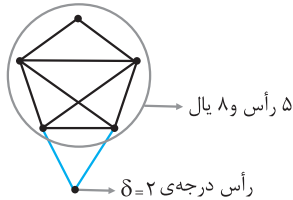
$$q = 6p + 2 \leq \frac{p(p-1)}{2} \Rightarrow 12p + 4 \leq p^2 - p \Rightarrow 0 \leq p^2 - 13p - 4$$

$$p = \frac{13 \pm \sqrt{169 + 16}}{2} \Rightarrow p > 13$$

$$\min(p) = 14 \Rightarrow \min(q) = 6 \times 14 + 2 = 86$$

۴۲ (۴ ۳ ۲ ۱)

این گراف حداقل یک رأس درجه‌ی ۲ دارد و باید ۸ یال دیگر را در حداقل تعداد رئوس قرار بدهیم. بنابراین داریم  $8 \leq \frac{p'(p'-1)}{2}$  و خواهیم داشت:  $\min(p') = 5$ ، پس حداقل ۶ رأس لازم است که باید در ۵ رأس، ۸ یال را قرار داد و یک رأس هم از درجه‌ی ۲ به آن افزود. برای نمونه به گراف زیر توجه کنید.

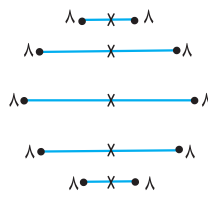


۴۳ (۴ ۳ ۲ ۱)

تمام افراد برای تمام شغل‌ها داوطلب شده‌اند. پس کافی است ۳ نفر را انتخاب کنیم و ۳ شغل را بین آن‌ها تقسیم کنیم. بنابراین جواب برابر  $\binom{5}{3} \times 3! = 60$  است با:

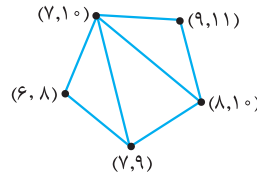
۳۲ (۴ ۳ ۲ ۱)

توجه کنید در این سؤال بیان نشده که ماکزیمم درجه چند باشد. می‌دانیم گراف  $k_7$  دارای ۴۵ یال است و باید ۵ یال را حذف کنیم. خوب ۵ یال جدا از هم را حذف می‌کنیم، به این ترتیب از هر رأس یک یال حذف می‌شود و درجه‌ی تمام رئوس ۸ است.



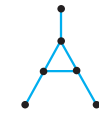
۳۳ (۴ ۳ ۲ ۱)

گراف متناظر با بازه‌های داده‌شده را رسم می‌کنیم. این گراف دارای ۷ یال است و برای آن که گراف کامل شود (همه‌ی رئوس مجاور شوند) نیاز به ۳ یال دارد.



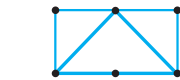
۳۴ (۴ ۳ ۲ ۱)

گراف متناظر با این دنباله به صورت زیر است که در درسامه ثابت کردیم بازه‌ای نیست. توجه کنید که اگر گرافی بازه‌ای باشد، به بی‌شمار مدل می‌توان به آن بازه نسبت داد.

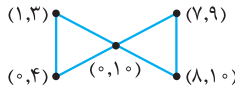


۳۵ (۴ ۳ ۲ ۱)

در گراف گزینه‌ی (۴) می‌توان ۴ ضلعی بدون قطر (حفره) مشاهده کرد.

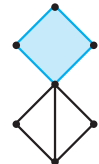


برای گزینه‌های دیگر با کمی تمرین می‌توانید بازه‌های مناسب پیدا کنید. برای نمونه به گزینه‌ی (۱) توجه کنید.



۳۶ (۴ ۳ ۲ ۱)

گزینه‌های (۱) و (۲) نادرستند و در درسامه بررسی کردیم. در گزینه‌ی (۳) هم چهارضلعی بدون قطر وجود دارد.



۳۷ (۴ ۳ ۲ ۱)

به جز این ۳ رأس، ۸ رأس دیگر وجود دارد که بزرگ‌ترین گراف ممکن یعنی گراف  $k_8$  را با آن‌ها می‌سازیم. سپس این ۳ رأس را به آن‌ها می‌افزاییم.

$$q_{max} = \binom{8}{2} + 7 + 5 + 3 = 28 + 7 + 5 + 3 = 43$$

۳۸ (۴ ۳ ۲ ۱)

اگر مرتبه‌ی گراف  $p$  و  $x$  رأس از درجه‌ی ۸ داشته باشد بنابراین  $p - x$  رأس از درجه‌ی ۲ دارد.

$$\sum \deg(a_i) = 2q$$

$$x \times 8 + (p - x) \times 2 = 2q \Rightarrow 8x + 2p - 2x = 2q$$

$$6x = 2q - 2p \Rightarrow 3x = q - p$$

$q - p$  برابر با  $3x$  است که قطعاً مضرب ۳ است و در گزینه‌ها تنها عدد ۴۲ مضرب ۳ می‌باشد.